

NOM :

Interrogation écrite de chimie

Mercredi
11 janvier 2023

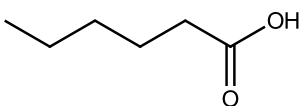
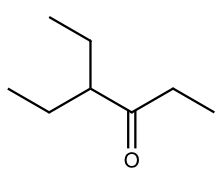
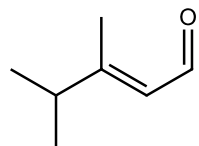
Durée : 10 minutes

La calculatrice est interdite.

Répondre directement sur cette feuille.

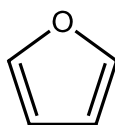
1) Molécules organiques

Pour chacune des molécules suivantes, identifier la nature de la fonction chimique oxygénée (ou groupe caractéristique) qu'elle contient et donner son nom en nomenclature systématique

		fonction	nom de la molécule
a)			
b)			
c)			

2) Le furanne

La formule topologique du furanne est la suivante :



a) Reprendre la formule ci-dessus en l'écrivant en notation développée, et en ajoutant les éventuels doublets non liants :

b) Le furanne fait partie de la famille des composés aromatiques. C'est une molécule parfaitement plane.

Cette propriété est liée à la conjugaison de certains doublets. Entourer tous les doublets impliqués dans cette conjugaison sur la molécule écrite à la question précédente.

Tournez la page...

En écrivant au moins deux autres formules mésomères, montrer que ces doublets sont bien conjugués :

3) Conformations du butane

a) Écrire le butane en notation topologique :

b) Représenter en projection de Newman et en projection de Cram la conformation la plus stable du butane, lors de la rotation autour de la liaison C-C centrale (on notera « CH₃ » les groupes méthyle terminaux). Comment nomme-t-on cette conformation particulière ?

Newman

Cram

nom de cette conformation :

c) Représenter en projection de Newman et en projection de Cram la conformation la moins stable du butane, lors de la rotation autour de la liaison C-C centrale (on notera « CH₃ » les groupes méthyle terminaux).

Newman

Cram

Pour quelles raisons cette conformation est-elle beaucoup moins stable que celle de la question précédente ?